



## 5. SINIFLAR İÇİN

OKULA YARDIMCI SINAVLARA HAZIRLIK  
BECERİ TEMELLİ SORULAR

# SOSYAL BİLGİLER DENEME KİTAPÇIĞI

# 1

- Bu kitapçıkta Sosyal Bilgiler dersine ait sorular bulunmaktadır.
- Bu sınav için tavsiye edilen süre 30 dakikadır.
- Bu denemede 20 soru bulunmaktadır.

Bu deneme  
1. ünite  
konularını  
içermektedir.

## SOSYAL BİLGİLER

1.

Sosyal bilgiler dersi 4. sınıftan itibaren okutulan dersler arasında yer almaktadır. Sosyal bilgiler dersi sayesinde hayatımızı kolaylaştıracak pek çok bilgiye sahip oluruz.

**Aşağıdakilerden hangisi sosyal bilgiler dersi sayesinde öğrendiklerimiz arasında yer almaz?**

- A) Yaşamımızı demokratik kurallara göre düzenleriz.
- B) Yaşadığımız çevreyi ve dünyayı tanırız.
- C) Ülkemiz ve dünya kültürleri hakkında bilgi sahibi oluruz.
- D) Sorumluluklarımızı ihmal ederiz.

2.



Bugünkü ilk dersimizde öğretmenimiz bu derste elde ettiğimiz kazanımlarla toplumsal hayata hazırlanacağımızı ve bilinçli vatandaşlar olacağımızı, haklarımızın ve sorumluluklarımızın bilincinde olan bireyler olarak yetişeceğimizi söyledi.

**Aytekin'in hakkında bazı bilgiler verdiği ders aşağıdakilerden hangisidir?**

- A) Matematik
- B) Fen Bilgisi
- C) Sosyal Bilgiler
- D) Türkçe

3.



**Yukarıda verilen görselde sosyal bilgiler dersinin bizlere kazandırdıklarından hangisine örnek verilmiştir?**

- A) Millî kültürümüzü oluşturan temel öğeleri kavramamıza yardımcı olur.
- B) Yaşadığımız bölgenin coğrafi özelliklerini tanımamıza yardımcı olur.
- C) Ülkemize karşı görev ve sorumluluklarımızı öğrenmemize yardımcı olur.
- D) Birlikte yaşamanın önemini kavramamıza yardımcı olur.



## SOSYAL BİLGİLER

4. Aşağıdaki öğrencilerin verdiği bilgilere bakılarak hangisinin sosyal bilgiler dersine girdiği söylenebilir?

A)



Türk milletine ait bağımsızlık ve egemenlik sembollerini öğrendim.

B)



Canlıların yapısını öğrendim.

C)



Kullandığımız kelimelerin farklı dillerdeki karşılıklarını öğrendim.

D)



Çeşitli yöntemlerle sayıların birbirleri ile olan ilişkilerini öğrendim.

5.

Adım Süleyman. Konyalıyım. Çiftçilikle geçimimi sağlıyorum. Yetiştirdiğim ürünleri olgunlaşınca hasat ediyorum ve satıyorum. Benim yetiştirdiğim ürünler bazen un, bazen mısır, bazen nohut bazen de yağ olarak sizlere sunuluyor.



Süleyman Amca'nın söylediklerine bakılarak sosyal bilgiler dersinde öğrendiğimiz etkin vatandaşın özelliklerinden hangisine uygun hareket ettiği söylenebilir?

- A) Eleştirel düşünme becerisini geliştirmiştir.
- B) Üretim yaparak ülke ekonomisine katkıda bulunmuştur.
- C) Günlük yaşamda kullanılan mekanların krokisini çizmiştir.
- D) Seçim zamanı oy kullanarak sorumluluğunu yerine getirmiştir.

6.

Bir olayın birden çok nedeninin ve birden çok sonucunun olmasına ---- denir.

Yukarıda verilen bilgide boş bırakılan bölüme aşağıdakilerden hangisi getirilmelidir?

- A) Hak ve sorumluluklarımız
- B) Olayların çok boyutluluğu
- C) Neden sonuç ilişkisi
- D) Eleştirel düşünme becerisi

7.

## GÜNLÜK HABER GAZETESİ

16 Ekim 2019 Çarşamba

Sayı: 576

Geçtiğimiz günlerde alınan bir kararla alışveriş merkezlerinden yapılan alışverişlerde müşterilere ücretsiz bir şekilde naylon poşet verilmesi yasaklandı. Bu duruma itiraz eden pek çok vatandaş sosyal medyadan da eleştirilerini eksik etmedi. Bu uygulama için pek çok geçerli nedenleri olduğunu ifade eden yetkililer halkı sağduyulu olmaya davet etti.

Yukarıda verilen gazete manşetindeki bilgilere bakılarak aşağıdakilerden hangisi yetkililerin sunduğu nedenler arasında yer almaz?

- A) Naylon poşetler doğada uzun yıllar yok olmamaktadır.
- B) Naylon poşetler insan sağlığı için elverişli değildir.
- C) Ücretsiz naylon poşet verilmesi israfa neden olmaktadır.
- D) Naylon poşet kullanımı halk egemenliğine gölge düşürmektedir.

8.



Enes

Yaşadığımız mahalleye toplumun kültür seviyesini artırmak, eğitim seviyesini yükseltmek gibi pek çok nedenle yeni bir kültür merkezi açıldı. Kültür merkezine gelen vatandaş sayısı arttıkça zamanla çevremizde bulunan market, lokanta, terzi, bakkal, sağlık ocağı, eczane gibi yerler de artmaya başladı. Mahallede yaşayan insan sayısının da artması trafik sorunları gibi bazı sorunların da meydana gelmesine neden oldu.

Enes'in verdiği bilgilere göre bulunduğu mahalleye yeni bir kültür merkezinin açılması ile ilgili olarak aşağıdakilerden hangisine ulaşamaz?

- A) Birden çok nedeni vardır.
- B) Birden çok sonucu vardır.
- C) Olumsuz sonuçlarından dolayı kaldırılmıştır.
- D) Bazı sorunları beraberinde getirmiştir.

9.



Halil Öğretmen

Biz bir aile gibiyiz.

Özel bir kolejde sosyal bilgiler öğretmeni olan Halil Öğretmen, öğrencilere hitaben söylediği söz ile bulunduğu kolejin hangi özelliği üzerinde durmuştur?

- A) Rol ve sorumluluk
- B) Başarı ve çalışma
- C) Sevgi ve bağlılık
- D) Azim ve kararlılık

10.



Ayşenur

Ailemin ikinci çocuğuyum. Benden küçük bir erkek kardeşim var. Bu yıl beşinci sınıfa başladım. Hafta sonu gittiğim voleybol kursunda en eğlenceli zamanlarımı geçiriyorum.

Ayşenur'un verdiği bilgilere bakılarak aşağıdaki rollerden hangisine sahip olabileceği söylenemez?

- A) Abla
- B) Öğrenci
- C) Oyuncu
- D) Solist

## SOSYAL BİLGİLER

11.



Yukarıda verilen bilgiler doğru ve yanlış olduğuna karar verilerek oklar yönünde ilerlendiğinde hangi sembole ulaşılır?

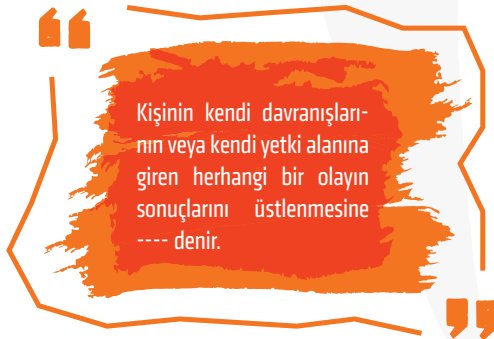
A)

B)

C)

D)

12.



Yukarıda verilen bilgilerde boş bırakılan bölüm aşağıdakilerden hangisi ile tamamlanmalıdır?

A) Sorumluluk

B) Hak

C) Rol

D) Çok boyutluluk

13.

I	Öğretmenlerine karşı saygılı davranmak	Sorumluluk
II	Vergi görevini yerine getirmek	Hak
III	Okul kütüphanesinden yararlanmak	Sorumluluk
IV	Eğitim öğretim faaliyetlerinden yararlanmak	Hak

Yukarıda hak ve sorumluluklarımıza ait örneklerin yer aldığı tabloda kaç numaralı eşleştirmelerde yanlışlık yapılmıştır?

A) Yalnız I

B) I ve III

C) II ve III

D) I, II ve IV

14.

İnsan sosyal bir varlıktır. Diğer insanlarla etkileşim hâlinde olmamız kaçınılmazdır. Bu bakımdan okullarımızda da öğrencilerin etkileşimini artırmak ve faydalı yönlerde kullanmak amacıyla kulüpler kurulmaktadır. Aynı zamanda grup olarak da değerlendirilebilen bu kulüplerde düzenli olarak pek çok etkinlik ve aktiviteler yapılmakta, öğrencilerimizin gelişimine katkı sağlanmaktadır.

Yukarıda verilen bilgilere göre aşağıdakilerden hangisine ulaşamaz?

- A) Kulüpler aynı zamanda birer gruptur.
- B) Kulüpler öğrencilerin gelişimine katkı sağlamaktadır.
- C) Kulüplerde çeşitli etkinlikler yapılmaktadır.
- D) Kulüplerde sorumluluğunu yerine getirmeyen öğrenciler de vardır.

15.



Yukarıda verilen görselde sorumluluklarımızdan hangisine bir örnek verilmiştir?

- A) Okul ve çevresini temiz tutmak
- B) Büyüklerimize karşı saygılı olmak
- C) Ailemize yardımcı olmak
- D) Derse zamanında katılmak

## SOSYAL BİLGİLER

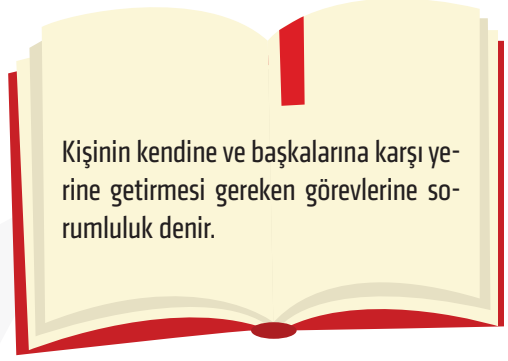
16.



Yukarıda verilen 5. sınıf öğrencisi Hamit'e ait görsele bakılarak çocuk haklarına ait olan hangi maddenin ihlal edildiği söylenebilir?

- A) Hiçbir öğrenci para kazanmak için ağır işlerde çalıştırılmaz.
- B) Her öğrencinin eğitim-öğretim faaliyetlerinden yararlanma hakkı vardır.
- C) Yaşamak her vatandaşın en temel hakkıdır.
- D) Her çocuğun nüfus kütüğüne kayıt olma hakkı vardır.

17.



Kişinin kendine ve başkalarına karşı yerine getirmesi gereken görevlerine sorumluluk denir.

Yukarıda verilen bilgiye göre;

- I. ders çalışmak,
- II. aile üyelerine yardımcı olmak,
- III. derste izin alarak konuşmak

durumlarından hangileri kişinin evde yerine getirmesi gereken sorumlulukları arasında yer alır?

- A) Yalnız I
- B) I ve II
- C) II ve III
- D) I, II ve III

18.

Ülkemizde Çocuk Hakları Sözleşmesi'nin uygulanmasından sorumlu bakanlığım.



Yukarıda verilen bilgilere göre "?" ile gösterilen bölüme aşağıdakilerden hangisi getirilmiştir?

- A) Adalet Bakanlığı
- B) Aile ve Sosyal Politikalar Bakanlığı
- C) Millî Eğitim Bakanlığı
- D) Dış İşleri Bakanlığı



19.



“Dünya Çocuk Hakları” günü olarak kutlanan gün aşağıdaki seçeneklerin hangisinde doğru olarak verilmiştir?

A) 20 Kasım

B) 30 Kasım

C) 20 Aralık

D) 30 Aralık

20.



Dünyada her vatandaşın olduğu gibi çocukların da pek çok hakkı vardır.

**Aşağıdakilerden hangisi çocuk haklarına verilebilecek örnekler arasında yer almaz?**

A) Yaşama hakkı

B) Düşünce özgürlüğü

C) Barınma hakkı

D) Her işte çalışabilme hakkı



## 5. SINIFLAR İÇİN

OKULA YARDIMCI SINAVLARA HAZIRLIK  
BECERİ TEMELLİ SORULAR

# SOSYAL BİLGİLER DENEME KİTAPÇIĞI

# 2

- Bu kitapçıkta Sosyal Bilgiler dersine ait sorular bulunmaktadır.
- Bu sınav için tavsiye edilen süre 30 dakikadır.
- Bu denemede 20 soru bulunmaktadır.

Bu deneme  
1. ünite  
konularını  
içermektedir.

## SOSYAL BİLGİLER

1.



Yukarıda verilen görsele bakılarak İsmet'in sosyal bilgiler dersinde öğrendiklerinden hangisini uygulamaya koyduğu söylenebilir?

- A) Haklarını bilir ve gerektiğinde kullanır.
- B) Ülke yönetimine katkı sağlar.
- C) Askerlik görevini yerine getirir.
- D) Seçim zamanında oy kullanır.

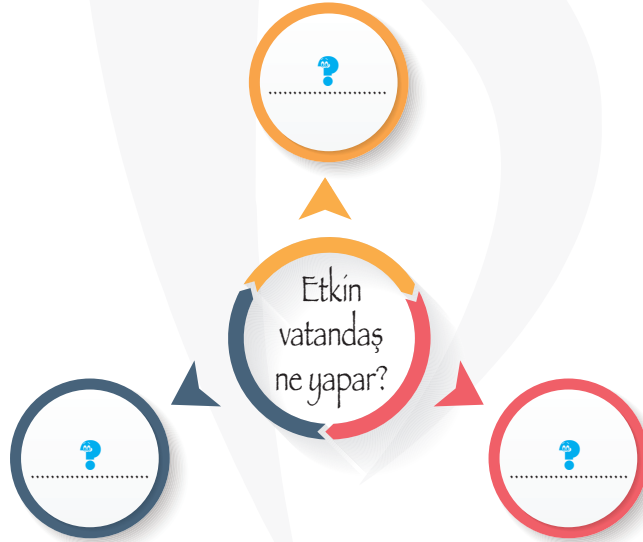
2.



Aşağıda verilenlerden hangisi çok boyutlu bir olay olan trafik kazasının nedenleri arasında yer almaz?

- A) Hız sınırlarını ihlal etmek
- B) Ehliyetsiz araç kullanmak
- C) Hatalı sollama yapmak
- D) Trafik kurallarına uymak

3.



Yukarıda verilen kavram haritasında "Etkin vatandaş ne yapar?" ile gösterilen bölümlere aşağıdakilerden hangisi getirilemez?

- A) Vergisini düzenli olarak öder.
- B) Sorumluluk bilinciyle hareket eder.
- C) Kanunlara ve kurallara uyar.
- D) Sadece kendi çıkarlarını düşünür.



## SOSYAL BİLGİLER

4.



Yukarıda verilen bilgilere göre aşağıdakilerden hangisine ulaşamaz?

- A) Bir olayın tek bir nedeni vardır. B) Olaylar birbiri ile ilişkili olabilir.  
C) Olaylar bazen çok boyutlu olabilir. D) Bir olayın birden çok sonucu olabilir.

5. Tüm insanlığı ilgilendirmesinden dolayı küresel olarak adlandırılan küresel ısınmanın pek çok nedeni ve pek çok sonucu vardır.

**Küresel ısınmanın nedenleri arasında;**

- I. fosil yakıt kullanımının artması,  
II. fabrika bacalarında filtre uygulanmaması,  
III. araç sayısının artması ile egzoz gazlarının gökyüzüne daha fazla yükselmeye başlaması

**durumlarından hangilerinin etkili olduğu söylenebilir?**

- A) Yalnız I B) I ve II  
C) I ve III D) I, II ve III

6.

Toplumu oluşturan insanlardan her birine denir.	I
Ortak bir amaç için bir araya gelen topluluğa denir.	II
İçinde yaşadığımız toplumun bir üyesi olma sürecine denir.	III

Yukarıda verilen tabloda I, II ve III şeklinde numaralandırılarak verilen bölümlere sırası ile aşağıdakilerden hangisi getirilmelidir?

- A) Birey, Grup, Sosyalleşme  
B) Grup, Birey, Sosyalleşme  
C) Sosyalleşme, Birey, Grup  
D) Birey, Sosyalleşme, Grup

## SOSYAL BİLGİLER

7. Aşağıdakilerden hangisi bireylerin devlete karşı yerine getirmesi gereken sorumlulukları arasında yer almaz?

- A) Doktora gitmek
- B) Vergi vermek
- C) Seçimlerde oy kullanmak
- D) Askere gitmek

8.

Görüşleri, amaçları, çıkarları bir olan kişiler bütününe grup denir. İnsanların yer aldıkları gruplarda bazı görevleri vardır. Grup içinde üstlenilen bu görevlere rol denir.

Yukarıda verilen bilgilere göre aşağıdakilerden hangisi aile grubundaki roller arasında yer almaz?

- A) Baba
- B) Evlat
- C) Kardeş
- D) Sınıf başkanı

9.

	BİLGİ	DOĞRU	YANLIŞ
I	Bireyler farklı gruplarda farklı rollere sahip olabilirler.	✓	
II	Rollerimize göre sorumluluklarımız da değişiklik gösterebilir.		✓
III	Bir kişi birden fazla role sahip olabilir.	✓	

Yukarıda verilen tablodaki bilgilerden hangileri doğru şekilde işaretlenmiştir?

- A) Yalnız I
- B) I ve II
- C) I ve III
- D) I, II ve III

10.

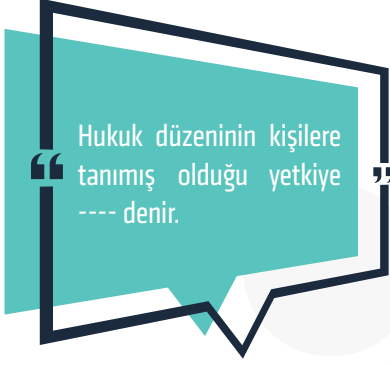
Yaşamımız da yerine getirmemiz gereken pek çok sorumluluğumuz vardır. Bunlardan bazıları da evde yerine getirmemiz gereken sorumluluklardır.

Aşağıda verilenlerden hangisi evde yerine getirmemiz gereken sorumluluklarımız arasında yer almaz?

- A) Odamızı ve eşyalarımızı düzenli kullanmak
- B) Basit ev işlerine yardım etmek
- C) Ev ödevlerimizi yapmak
- D) Kütüphaneden faydalanabilmek

## SOSYAL BİLGİLER

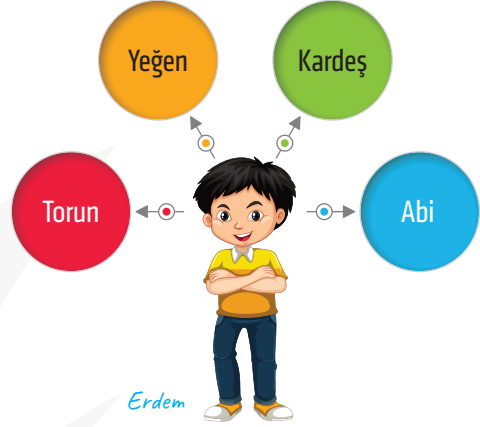
11.



Yukarıda verilen tablodaki bilgilerde boş bırakılan bölüme aşağıdakilerden hangisi getirilmelidir?

- A) Hak  
B) Sorumluluk  
C) Olay  
D) Rol

12.



Erdem'in rollerine bakılarak aşağıdakilerden hangisine ulaşılabılır?

- A) Farklı gruplarda farklı rollerin olabileceği  
B) Aynı grupta farklı rollerin olabileceği  
C) Gruplar değiştikçe rollerin değişebileceği  
D) Bulunduğu gruba göre rollerinin sabit kaldığı

13.



Yukarıda verilen görsellerde aşağıdaki hak ve sorumluluklarımızdan hangisine ait bir örnek yoktur?

- A) Oyun oynamak  
B) Derste öğretmenden izinsiz konuşmamak  
C) Yaşlılara yardım etmek  
D) Çevremizi temiz tutmak

## SOSYAL BİLGİLER

14.



Adım Berkecan. Konyalıyım. Bu yıl 5. sınıfa geçtim ve İsem Koleji'ne kaydoldum. Okulumuzun Futbol kulübünde olmak beni oldukça mutlu ediyor.

Yukarıda verilen Berkecan'ın sözlerine bakılarak aşağıdaki rollerden hangisine sahip olduğu kesinlikle söylenemez?

- A) Çocuk                      B) Öğrenci  
C) Kaleci                      D) Solist

15.

Günlük hayatta karşılaştığımız olaylar hayatımızı pek çok açıdan etkilemekte, pek çok sonucu beraberinde getirmektedir. Örneğin mahallemize yeni bir okul açılmasının pek çok sonucu olacaktır.

Aşağıdakilerden hangisi mahalleye yeni bir okul açılmasının olumlu sonuçları arasında yer alır?

- A) Konut yetersizliğine neden olur.  
B) Trafiğin yoğunlaşmasına neden olur.  
C) Çevre sorunlarına neden olur.  
D) Yeni iş imkânlarına neden olur.

16.



Merhaba. Benim adım Gülnihal. Görüşleri, amaçları, çıkarları bir olan kişiler bütününe grup denir. Bu bilgiyi bugün sosyal bilgiler dersinde Halil Öğretmenimiz anlattı. Her vatandaşın olduğu gibi benim de içeri-sinde yer alabileceğim gruplar var.

Aşağıdakilerden hangisi 5. Sınıf öğrencisi Gülnihal'in katılabileceği gruplar arasında yer almaz?

- A) İzcilik kulübü                      B) Esnaflar Odası Birliği  
C) Voleybol takımı                      D) Oyun grubu

## SOSYAL BİLGİLER

17. Hak ve sorumluluklarının farkında olan ve bu bilinçle hareket eden bir bireyin;

- I başarılı olması,
- II hedeflerine ulaşarak mutlu olması,
- III görevlerini yerine getirmekten kaçınması

gibi durumlarından hangilerini yaşaması beklenir?

- A) Yalnız I                      B) I ve II                      C) II ve III                      D) I, II ve III

18.

Odamızı temizleyip düzenli tutmak	Ders tamamlandıktan sonra teneffüse çıkmak
Sofra kurulurken annemize yardım etmek	Çocukları ilgilendiren bütün faaliyetlerden yararlanabilmek

Yukarıda verilen tabloda yer alan bilgilerden sorumluluklarımızla ilgili olanlar gri renge boyandığında ortaya çıkacak şekil aşağıdakilerden hangisi gibi olmalıdır?

A) 


B) 


C) 


D) 
